

臺北市立誠正國中 107 學年度第一學期 九年級地理科 第三次定期考查試題

範圍：地理第五冊 單元 5~6

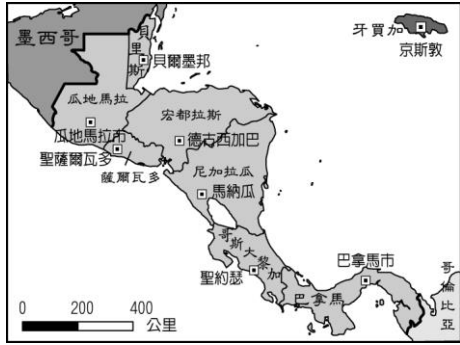
年

班 座號

姓名

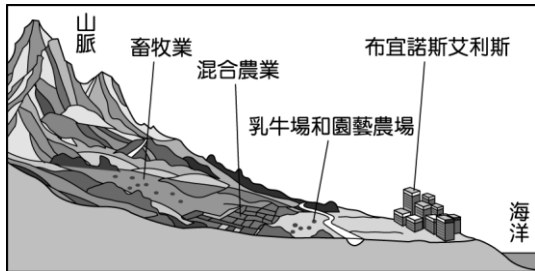
一、單一選擇題 (共 22 題，每題 2 分，共 44 分)

1. () 下圖為中美洲各國的分布圖，請由圖中位置加以判斷，東北方的京斯敦位於哪一個海域上？



- (A) 太平洋 (B) 加勒比海
(C) 北極海 (D) 波羅的海。

2. () 阿根廷為南美洲重要的農牧大國，下列即為該國不同農業類型的分布示意圖。請問：圖中的山脈及海洋分別為何？



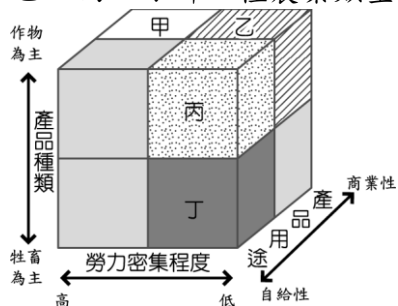
- (A) 安地斯山脈、北極海 (B) 落磯山脈、大西洋
(C) 安地斯山脈、大西洋 (D) 落磯山脈、太平洋

3. () 美國西南部的拉斯維加斯因為氣候乾燥，商人在當地興建賭場，成為主要的經濟來源。請問：該地區氣候乾燥的成因為何？ (A) 山脈阻擋 (B) 鋒面交會 (C) 暖流經過 (D) 高氣壓籠罩。

4. () 師大地理水文學權威張教授想帶學生前往世界流量最大的河川進行考察。請問：師大師生考察的地點位於哪一洲境內？ (A) 北美洲 (B) 非洲 (C) 歐洲 (D) 南美洲。

5. () 南美洲的智利濱臨太平洋，若由南向北前進，所經過的氣候類型不包括下列何者？ (A) 溫帶大陸性氣候 (B) 溫帶海洋性氣候 (C) 溫帶地中海型氣候 (D) 熱帶沙漠氣候。

6. () 美國某一農作帶以生產小麥為主，由於耕地面積廣大，農民利用機械耕作、收割，小麥收成後除供國內製成麵粉外，也大量運銷國外。依下圖中的三種指標加以分類，上述農作帶最可能屬於圖中甲、乙、丙、丁哪一種農業類型？



- (A) 丙 (B) 甲 (C) 乙 (D) 丁。

7. () 東南亞與中南美洲都曾因為被歐洲國家殖民，各

國的熱帶栽培業發達，成為當地重要的經濟來源，然而這些國家的經濟卻多不穩定。請問主要因素為何？ (A) 國際市場價格波動 (B) 產品容易破碎 (C) 耕種面積太小 (D) 薪水大幅上漲。

8. () 甲、乙二國的冬麥收成時間相差近半年，但早期因二國間路程遙遠，加上海上運輸不發達，甲國利用收成時間差異出口冬麥至乙國的優勢並不明顯。直到大型海上運輸技術改善後，此一優勢才慢慢凸顯。下列何者最可能為甲國和乙國？

- (A) 智利跟巴西 (B) 台灣跟美國
(C) 南韓與加拿大 (D) 丹麥跟阿根廷。

9. () 根據美國經濟局的調查，美國農夫又被稱為「手提箱農夫」，必須管理大片土地，並熟知國際價格，請問以下何者不是美國農業的產業特色？

- (A) 大規模生產 (B) 機械化比例高 (C) 結合 GIS 地理資訊系統 (D) 採用多樣化種植。

10. () 近年來，美國境內的經濟活動出現大量生產及大量消費的文化，並成為全世界的 GDP 的龍頭，這種現象對當地的經濟活動造成何種影響？

- (A) 生產商品簡單 (B) 市場規模廣大
(C) 國際貿易貧乏 (D) 農牧產品減少。

11. () 小胡到中南美洲旅行，發現某個國家盛產銀礦，所以買了許多小小銀飾品帶回來跟同學分享。請問：這個有「白銀王國」之稱的國家為何？

- (A) 古巴 (B) 烏拉圭 (C) 墨西哥 (D) 巴西。

12. () 底特律以前被稱為世界汽車工業之都，後來因石油危機的影響，加上歐洲及日本的競爭，逐漸使底特律走向沒落。日前美國總統川普要求美國廠牌的汽車回國生產時，首先要克服下列何項不利條件？ (A) 市場萎縮 (B) 礦產不足 (C) 技術落後 (D) 薪資過高。

13. () 南美洲肆虐的「茲卡病毒」主要於溼熱地區蔓延，日前竟在溫帶的英國爆出 20 例確診案。根據英國衛生當局調查報告，這 20 個確診案例都曾經到中南美洲度假，返國後才出現身體不適相關症狀。請問：英國確診案例者前往旅遊的地點最可能位於下圖中何處？



- (A) 丁 (B) 甲 (C) 乙 (D) 丙。

《下頁尚有試題！！請翻頁！！》

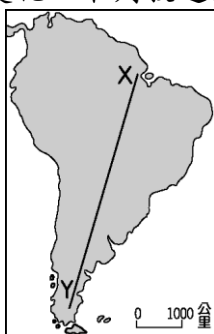
14. ()美國墨西哥灣沿岸及密西西比河下游三角洲地區，氣候暖溼多屬黏土層，有利於涵養水分，適合稻作栽培。上述的稻米生產區在生產的過程中最容易遇到下列何種氣候災害，造成農作物的損失？(A)地震 (B)暴風雪 (C)颶風 (D)龍捲風。
15. ()墨西哥自從加入 NAFTA 後，吸引眾多的外國企業前往投資設廠。請問：目前該國最主要的出口品為哪些？(甲)銀礦(乙)汽車(丙)電子產品(丁)咖啡 (A)乙丙 (B)甲丁 (C)丙丁 (D)甲乙。
16. ()波哥大為哥倫比亞的首都，地理位置接近 10°N ，因為氣候涼爽而成為當地的大都市。請問：該都市的地理位置最可能位於哪一個地形區中？(A)拉布拉多高原 (B)安地斯山脈南端 (C)亞馬孫盆地 (D)安地斯山脈北端。
17. ()美國文化相當強勢，透過各種商業化的包裝，影響到全世界。下列何者不是美國文化的產物？(A)世界盃足球賽 (B)NBA 籃球賽 (C)麥當勞速食餐廳 (D)好萊塢電影明星。
18. ()英國移民坐著五月花號，飄洋過海來到美洲大陸，在下圖中哪一個地區登陸後，開始美洲大陸的開拓史，創建了今日的美國？



- (A)乙 (B)丙 (C)丁 (D)甲。
19. ()美國的百貨零售龍頭--沃爾瑪公司公布最新一季財報，如下圖所示，受到利多消息影響，位於美國金融中心的多家證券交易所，股市應聲上漲。請問：上述金融中心應是指哪一個都市？



- (A)矽谷 (B)洛杉磯 (C)華盛頓 (D)紐約。
20. ()拉丁美洲自然條件相當優越，氣候溼熱、礦產豐富，因而早期為其他國家所殖民。今日該地區的發展正全力擺脫往昔的影響南美洲的面積廣大狹長，環境的變化多樣。有關附圖中由 X 點出發至 Y 點的沿途變化，下列敘述何者正確？



- (A)降水漸多 (B)高度漸低
(C)氣溫漸低 (D)緯度漸低。

21. ()咖啡已成為現代人生活中的常備飲料，街道上隨處可見各式的咖啡店，而中南美洲的哪一個國家咖啡生產量居世界第一，當年咖啡的豐收與否，將會影響到該年度的國際咖啡豆價格？(A)巴西 (B)阿根廷 (C)宏都拉斯 (D)哥倫比亞。
22. ()歐洲殖民國家在東南亞及中南美洲從事熱帶栽培業及礦業開採，最主要的區位因素為下列哪些？(A)夏乾冬雨氣候、勞工技術進步 (B)終年氣候暖溼、勞工工資便宜 (C)乾溼分明氣候、勞工素質較高 (D)溫暖乾旱氣候、勞工工資較低。

二、題組題 (共四大題，13 小題，每小題 2 分，共 26 分)

《題組 1》中國近年來積極對外擴展國際貿易，而與南美洲國家貿易快速增長，中國因此提議興建貫穿秘魯及巴西、聯通南美兩側海域的「兩洋鐵路」，將可打破目前美國控制下的國際物流壟斷。請問：

23. ()上文中的「兩洋鐵路」，預計將連結哪兩個海洋？(A)墨西哥灣、北極海 (B)大西洋、北極海 (C)印度洋、太平洋 (D)大西洋、太平洋
24. ()若未來「兩洋鐵路」興建完工後，將對哪一國家境內的聯洋運河收益產生重大影響？(A)聖克里斯多福及尼維斯 (B)巴拿馬 (C)巴拉圭 (D)新加坡。
25. ()「兩洋鐵路」將貫穿秘魯及巴西，環保組織認為這條路線將會嚴重破壞下列哪一地形區環境，造成雨林的消逝？(A)巴塔哥尼亞高原 (B)彭巴草原 (C)安地斯山脈 (D)亞馬孫盆地。

《題組 2》氣候現象的異常對於世界各國造成重大的影響，如發生於南美洲太平洋沿岸的聖嬰現象即對當地的產業活動造成衝擊。聖嬰現象導致當地的涼流減弱，漁獲量大為減少。據說在 16 世紀時，西方殖民者為獲取他們所需的資源，即在這種「溼年」征服了當時的印第安帝國。請根據以上敘述，回答下列問題：

26. ()當「聖嬰」現象發生時，南美洲哪一個地點受到洋流性質的變化，對漁業活動造成衝擊？



- (A)丙 (B)甲 (C)丁 (D)乙。
27. ()上文中提及西方殖民者藉由「溼年」的氣候異常，征服了南美洲的古印第安帝國，該殖民者最可能為下列何者？(A)西班牙 (B)法國 (C)英國 (D)葡萄牙。
- 《試題尚未結束，請尋找第三頁試題！》

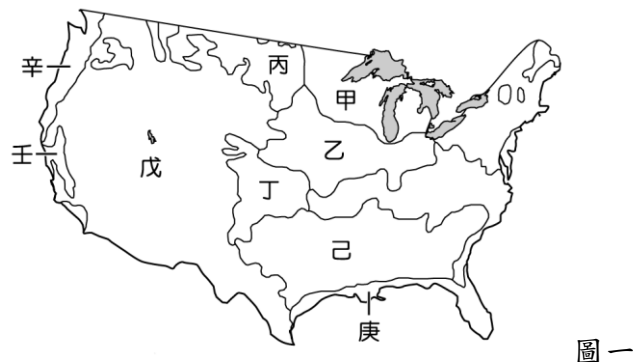
28. () 承 27 題，西方殖民者所征服的印第安帝國若根據其位置判斷，主要分布於下列何處？
 (A) 巴西高原 (B) 落磯山脈
 (C) 亞馬孫盆地 (D) 安地斯山脈。
29. () 中南美洲的歷史發展過程中受到外來殖民的影響相當深遠，下列有關當地的敘述中，何者和殖民歷史的關係較小？ (A) 拉丁美洲國家的混血種族比例高，例如麥士蒂索人 (B) 巴西由於鐵礦豐富，工業快速發展而被譽為金磚四國 (C) 中南美洲許多城市發展為港埠型都市 (D) 阿根廷信奉天主教，如現任教宗方濟各就是來自該國。

《題組 3》下圖為北美洲簡圖，請依據題目的問題，選出適當的答案：

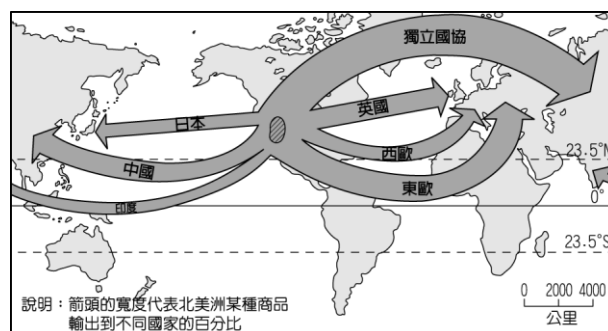


30. () 乙區主要是由河川沖積的平原區，南側有世界上最大的三角洲。請問：此三角洲是哪條河川沖積而成？ (A) 亞馬孫河 (B) 科羅拉多河 (C) 聖羅倫斯河 (D) 密西西比河。
31. () 丙區是世界上最大的淡水湖群。請問：此湖群形成主要原因為何？ (A) 冰河侵蝕 (B) 人工建造 (C) 風力侵蝕 (D) 斷層作用。
32. () 美國境內哪一個地區位於環太平洋火山地震帶上，因此容易出現地震活動，常造成生命財產的損失？ (A) 丁 (B) 乙 (C) 甲 (D) 丙。

《題組 4》下圖一為北美洲農牧業分布圖，請根據題目的需求選出適當的答案：



33. () 下圖二是北美洲某種商品輸往世界各地的比例示意圖，請由圖中資料判斷，該種商品最有可能是種植於上圖的哪兩個區域？ (A) 甲乙 (B) 丙丁 (C) 辛壬 (D) 己庚。

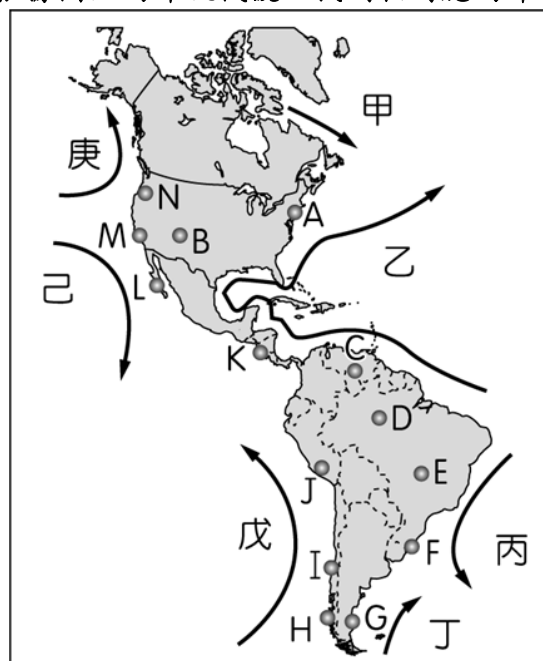


圖二

34. () 酪農業的商品具有保存期限較短的特性，所以通常會選擇有市場區位的地方發展，請問圖一哪裡是酪農業的區域？
 (A) 乙 (B) 丁 (C) 庚 (D) 甲。
35. () 早期美國牛仔騎馬領著牛群，在廣大的草原進行放牧活動。現在雖然牛仔已沒落少見，但在上圖一中何處是以畜牧業為主？
 (A) 甲 (B) 辛 (C) 戊 (D) 己。

三、配合題 (共兩大題，15 小題，每小題 2 分，共 30 分)

《第一大題》北美洲加拿大西岸的溫哥華與東岸的多倫多緯度相近，而溫哥華的氣候卻較為溫暖，顯示出洋流的重要性，請根據圖上的洋流代號，找到相對應的洋流名稱。



答案欄：

- A 福克蘭寒流
- B 加利福尼亞涼流
- C 巴西暖流
- D 拉布拉多寒流
- AB 墨西哥灣流
- AC 祕魯涼流
- AD 阿拉斯加暖流

36. () 甲洋流
 37. () 乙洋流
 38. () 丙洋流
 39. () 丁洋流
 40. () 戊洋流
 41. () 己洋流
 42. () 庚洋流

《下頁尚有試題！！請翻頁！！》

《第二大題》整個美洲橫跨了南北半球，也因此讓部分氣候類型出現對稱的狀況，以下有 8 張不同類型的氣溫雨量圖，請從圖上給予的資料，將正確的氣候類型與之配對。

- 答案欄：
- A 熱帶沙漠氣候

B 高地氣候

C 熱帶雨林氣候

D 夏雨型暖溫帶氣候

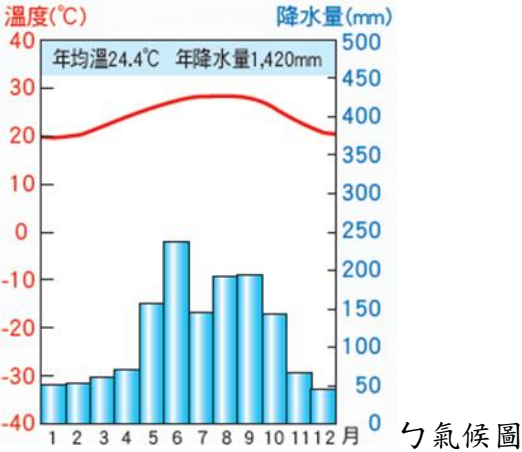
AB 北半球溫帶地中海型氣候

AC 南半球溫帶地中海型氣候

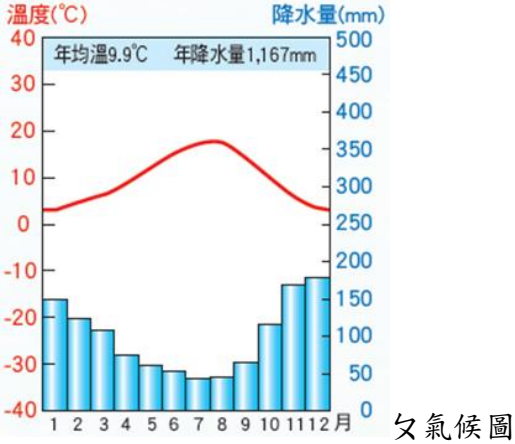
AD 熱帶莽原氣候

BC 溫帶海洋性氣候

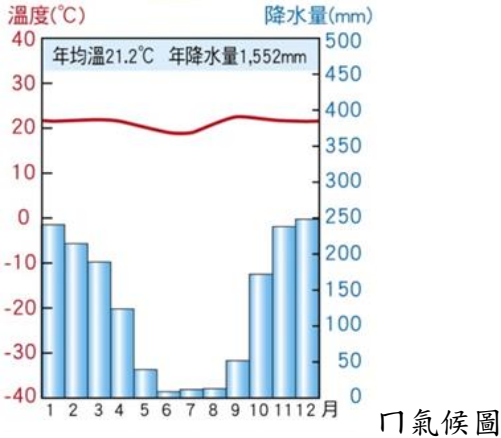
43. () 丿氣候代號



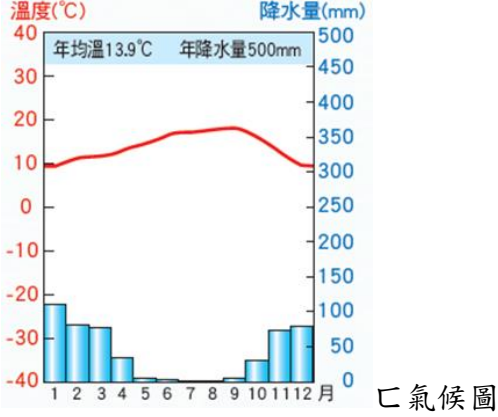
44. () 乚氣候代號



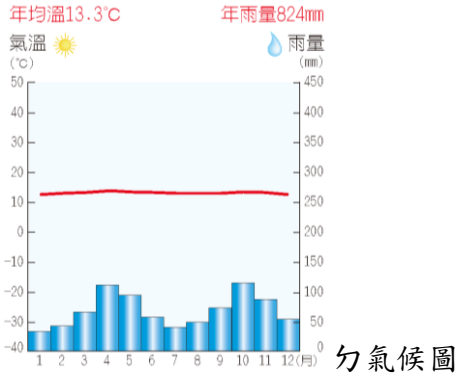
45. () 冂氣候代號



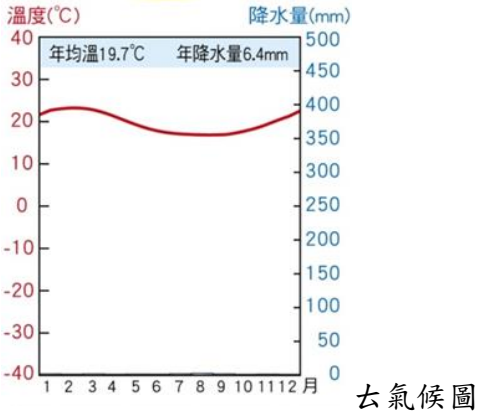
46. () 匚氣候代號



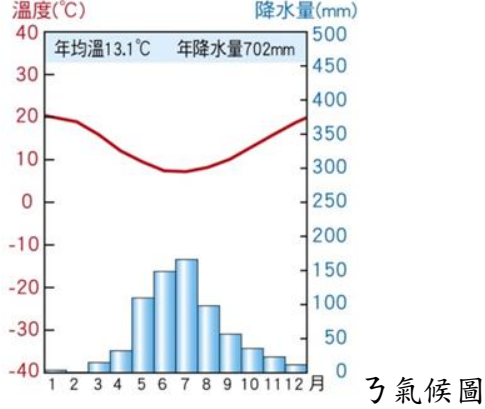
47. () 勹氣候代號



48. () ㄣ氣候代號



49. () ㄋ氣候代號



50. () ㄣ氣候代號

